

入試対策 時事問題にチャレンジ!

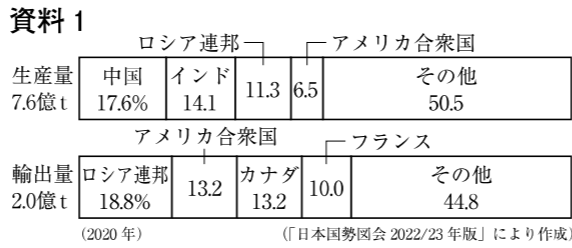
フリガナ 名前	年 組 番
/100	

① 2023年5月、G7サミットが広島県で開催された。広島サミットの参加国や重要課題に関するまとめを見て、あとの問いに答えなさい。(5点×10)

参加国・機関	G7	日本・ A アメリカ合衆国・フランス・イギリス・ドイツ・イタリア・カナダ
	招待国	オーストラリア・ A ブラジル・ I コモロ・クック諸島・ U インド・ E インドネシア・韓国・オバトナム
	招待機関	B 国際連合・IEA・IMF・OECD・世界銀行・WHO・WTO
	ゲスト国	C ウクライナ
重要課題	地域情勢、核軍縮・不拡散、 D 経済的強靱性・経済安全保障、気候・ E エネルギー、食料、保健、開発 など	

問1 サミットが開かれた広島県について、次の問いに答えなさい。
 ① 広島県の沿岸部を中心とした地域が含まれる工業地域を何といますか。
 ② 広島県にある世界遺産を、次のア～オから2つ選び、記号で答えなさい。
 ア 厳島神社 イ 姫路城 ウ 屋久島 エ 知床 オ 原爆ドーム

問2 G7について、次の問いに答えなさい。
 ① G7のうち、国際連合の安全保障理事会の常任理事国は何か国あるか、数字で答えなさい。
 ② 資料1は、G7に含まれる国々で生産がさかんな農産物の国別生産量・輸出量割合を示している。資料1が示す農産物を、次のア～エから1つ選び、記号で答えなさい。
 ア 小麦 イ 大豆 ウ とうもろこし エ 米

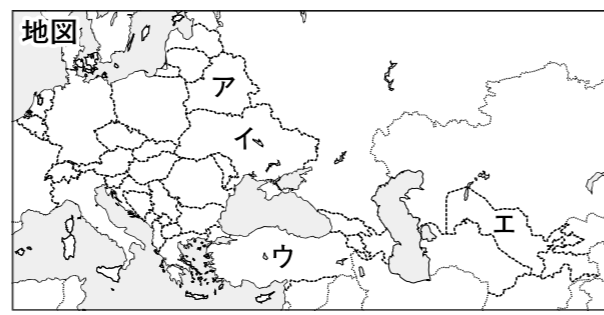


③ 1951年に下線部Aとの間で結ばれた、日本に米軍が駐留することを認めた条約を何といますか。

資料2 第1条 すべての人間は、生れながらにして自由であり、かつ、尊厳と権利とについて平等である。人間は、理性と良心とを授けられており、互いに同胞の精神をもって行動しなければならない。

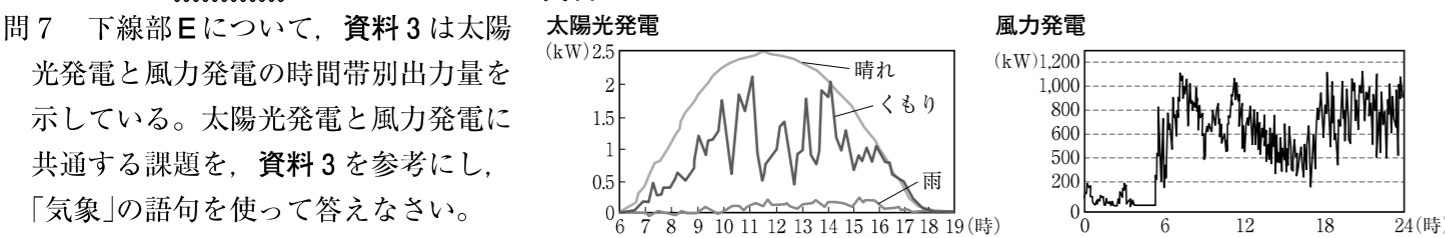
問3 「招待国」のア～オの国のうち、ASEAN加盟国を2つ選び、記号で答えなさい。

問4 資料2は、1948年に下線部Bで採択された宣言の内容を示している。資料2を何といますか。



問5 下線部Cの位置を、地図中のア～エから1つ選び、記号で答えなさい。

問6 下線部Dに関連して、事業を始める発展途上国の貧しい人々に対して、無担保で少額の資金を融資するしくみを何といますか、カタカナで答えなさい。



① 答

問1	①	工業地域	②	問2	①	か国	②
問2	③	条約	問3	問4	問5	問6	問7

〔解答〕 ①問1 ① 瀬戸内 ② ア, オ(完答, 順不同可) 問2 ① 3(数字) ② ア ③ 日米安全保障[日米安保]
 問3 エ, オ(完答, 順不同可) 問4 世界人権宣言 問5 イ 問6 マイクロクレジット(カタカナ)
 問7 (例)(天候や風の強さなどの)気象条件に発電量が左右されること。

② 次の文を読んで、あとの問いに答えなさい。(5点×5)

2022年のA出生数は77万747人となり、B1899年の統計開始以来で最少となった。日本のC人口は2011年以降減少し続けており、今後はD社会保障にかかる費用をどのようにまかなうか、どのようにE労働力を確保していくか、などが課題となっている。

問1 下線部Aに関連して、一人の女性が一生のうちに生む子どもの数を何といますか、漢字で答えなさい。
 問2 下線部Bについて、このころに起こった次のア～エのできごとを、年代の古い順に並べかえ、記号で答えなさい。

ア 下関条約の締結 イ 韓国併合 ウ 第1回衆議院議員選挙の実施 エ 日英同盟の成立
 問3 下線部Cについて、18世紀初頭の江戸は人口100万人を超える大都市となっていた。寛政の改革で、江戸に出稼ぎに来ていた農民らを村に帰るように命じた老中はだれですか。資料

問4 下線部Dについて、資料は社会保障の4つの柱を示しており、w～zには、次のア～エのいずれかがあてはまる。x, zにあてはまるものを1つずつ選び、記号で答えなさい。
 ア 公的扶助 イ 社会福祉 ウ 社会保険 エ 公衆衛生
 問5 下線部Eについて、労働者に対して認められている労働基本権[労働三権]のうち、労働組合をつくる権利を何といますか。

w	前もって保険料を支払い、医療・介護など必要ときに給付を受ける
x	高齢者や子どもなど、社会的に弱い立場にある人々を支援する
y	最低限の生活ができない国民に、生活費・教育費・医療費などを支給する
z	感染症対策や廃棄物処理などを行い、国民の健康や安全を守る

② 答

問1	問2	問3
問4	x	z
問5		

③ 次の文を読んで、あとの問いに答えなさい。(5点×5)

A第208回国会でこども家庭庁設置法が成立したことを受け、2023年4月、内閣府の外局としてこども家庭庁が設置された。こども家庭庁の長はBこども政策担当大臣であり、C子育てにかかる給付金の支給などについて、政策の一元化が期待される。

問1 下線部Aについて、次の問いに答えなさい。
 ① この国会のように、毎年1回、1月中に召集される国会を何といますか。
 ② 次のa～dのうち、国会の仕事にあてはまるものの組み合わせとして正しいものを、あとのア～エから1つ選び、記号で答えなさい。

a 条約の承認 b 内閣総理大臣の任命 c 弾劾裁判所の設置 d 最高裁判所長官の指名
 ア a, c イ a, d ウ b, c エ b, d

問2 下線部Bについて、次の文中の()にあてはまる語句を漢字2字で答えなさい。
 こども政策担当大臣のように、内閣総理大臣に任命された()大臣の多くは各省庁の長となる。

問3 下線部Cの財源の多くは国民が納める税金である。税金について、次の問いに答えなさい。資料

① 資料は所得税の税率の一部を示している。資料を参考にして、所得税に取り入れられている累進課税とはどのようなしくみか、「税率」の語句を使って答えなさい。
 ② 消費税や酒税、関税のように、税を納める人と負担する人が異なる税を何といますか、漢字3字で答えなさい。

所得金額	税率
～194.9万円	5%
195～329.9万円	10%
330～694.9万円	20%
695～899.9万円	23%

(国税庁ホームページにより作成)

③ 答

問1	①	②	問2
問3	①	②	

②問1 合計特殊出生率(漢字) 問2 ウ→ア→エ→イ(完答) 問3 松平定信 問4 x…イ, z…エ(完答) 問5 団結権
 ③問1 ① 常会[通常国会] ② ア 問2 国務(漢字2字)
 問3 ① (例)所得が高くなると、税率が高くなるしくみ。 ② 間接税(漢字3字)